



ODONTÓLOGO BUCOMAXILOFACIAL

LEIA ATENTAMENTE AS INSTRUÇÕES ABAIXO.

01 - Você recebeu do fiscal o seguinte material:

a) este caderno, com as 50 questões das Provas Objetivas, sem repetição ou falha, assim distribuídas:

LÍNGUA PORTUGUESA III		CONHECIMENTOS GERAIS		NOÇÕES DE INFORMÁTICA		CONHECIMENTOS ESPECÍFICOS	
Questões	Pontos	Questões	Pontos	Questões	Pontos	Questões	Pontos
1 a 5	1,0	11 a 15	2,0	16 a 20	2,0	21 a 30	1,0
6 a 10	3,0					31 a 40	2,0
						41 a 50	3,0

b) 1 **Cartão-Resposta** destinado às respostas às questões objetivas formuladas nas provas.

02 - Verifique se este material está em ordem e se o seu nome e número de inscrição conferem com os que aparecem no **CARTÃO**. Caso contrário, notifique **IMEDIATAMENTE** o fiscal.

03 - Após a conferência, o candidato deverá assinar no espaço próprio do **CARTÃO**, preferivelmente a caneta esferográfica de tinta na cor preta.

04 - No **CARTÃO-RESPOSTA**, a marcação das letras correspondentes às respostas certas deve ser feita cobrindo a letra e preenchendo todo o espaço compreendido pelos círculos, a **caneta esferográfica de tinta na cor preta**, com um traço contínuo e denso. A **LEITORA ÓTICA** é sensível a marcas escuras; portanto, preencha os campos de marcação completamente, sem deixar claros.

Exemplo:



A



C



D



E

05 - Tenha muito cuidado com o **CARTÃO**, para não o **DOBRAR**, **AMASSAR** ou **MANCHAR**. O **CARTÃO SOMENTE** poderá ser substituído caso esteja danificado em suas margens superior ou inferior - **BARRA DE RECONHECIMENTO PARA LEITURA ÓTICA**.

06 - Para cada uma das questões objetivas, são apresentadas 5 alternativas classificadas com as letras (A), (B), (C), (D) e (E); só uma responde adequadamente ao quesito proposto. Você só deve assinalar **UMA RESPOSTA**: a marcação em mais de uma alternativa anula a questão, **MESMO QUE UMA DAS RESPOSTAS ESTEJA CORRETA**.

07 - As questões objetivas são identificadas pelo número que se situa acima de seu enunciado.

08 - **SERÁ ELIMINADO** do Concurso Público o candidato que:

a) se utilizar, durante a realização das provas, de máquinas e/ou relógios de calcular, bem como de rádios gravadores, *headphones*, telefones celulares ou fontes de consulta de qualquer espécie;

b) se ausentar da sala em que se realizam as provas levando consigo o Caderno de Questões e/ou o **CARTÃO-RESPOSTA**.

09 - Reserve os 30 (trinta) minutos finais para marcar seu **CARTÃO-RESPOSTA**. Os rascunhos e as marcações assinaladas no Caderno de Questões **NÃO SERÃO LEVADOS EM CONTA**.

10 - Quando terminar, entregue ao fiscal **O CADERNO DE QUESTÕES E O CARTÃO-RESPOSTA E ASSINE A LISTA DE PRESENÇA**.

11 - **O TEMPO DISPONÍVEL PARA ESTAS PROVAS DE QUESTÕES OBJETIVAS É DE 3 (TRÊS) HORAS E 30 (TRINTA) MINUTOS**.



LÍNGUA PORTUGUESA III

Texto I

MEDIDAS PARA VIVER MELHOR

A evolução do conceito de qualidade total criou em diversos setores organizacionais um sistema de pontuação – ISO – que é usado na avaliação da qualidade de produtos, serviços, de meio ambiente e assim por diante. Os parâmetros a serem alcançados para obter o certificado ISO, que torna produtos mais competitivos e serviços mais eficientes, indicam o "caminho das pedras" que deve ser seguido para se alcançar a qualidade total.

Em praticamente todos os setores de atividades o ser humano é o elo importante desse sistema. Então por que não avaliar os parâmetros da qualidade de vida do ser humano? Por que não tentar buscar a qualidade total de vida?

É importante se promover o bem-estar total, pois o moderno conceito de saúde vai muito além da ausência de doenças e engloba o bem-estar físico, social, intelectual, emocional, espiritual e profissional, que devem ser avaliados periodicamente. Além desses fatores, outro segmento que muito influi na qualidade total de vida é a saúde familiar.

Com o objetivo de melhor administrar a saúde, deve-se procurar um equilíbrio entre o trabalho, o lazer e o repouso, valorizar as férias e os fins de semana, priorizar a auto-estima, preservar e aprimorar o equilíbrio emocional. Temos verificado que mesmo as pessoas que fazem exames médicos periódicos ou *check-ups*, muitas vezes, devido a dificuldades emocionais, não seguem as recomendações finais, o que representa um fator limitante na promoção da saúde.

Quem assimila o conceito de saúde total e adota medidas positivas de comportamento e hábitos saudáveis, consegue melhor pontuação e conseqüentemente mais se aproxima do almejado "ISO ser humano". Para isso cada pessoa deve estabelecer o seu programa de saúde. Todos podem conseguir um viver melhor desde que haja uma firme decisão de se cuidar.

Deve-se fazer um planejamento geral e escolher a primeira meta a ser alcançada. As prioridades variam de pessoa para pessoa.

JACQUES, Haroldo. **O Globo**. 16 maio 2004. (adaptado)

1

De acordo com o Texto I, ISO é um sistema de pontuação que avalia, nas empresas, a:

- (A) competitividade dos produtos e a eficiência dos serviços.
- (B) qualidade das matérias-primas e a evolução do conceito.
- (C) capacidade de produção e a qualificação do pessoal.
- (D) qualidade do produto e as condições de produção.
- (E) política empresarial e a estratégia organizacional.

2

Segundo o Texto I, a postura de vida que, por sua abrangência, mais se aproxima do "ISO ser humano" é:

- (A) ter uma alimentação variada e balanceada.
- (B) saber conjugar trabalho, lazer e férias.
- (C) adotar medidas positivas de comportamento e hábitos saudáveis.
- (D) fazer periodicamente visitas ao médico e ao dentista.
- (E) evitar estresse, pensamentos negativos e excesso de tarefas.

3

De acordo com o Texto I, é **INCORRETO** afirmar que:

- (A) os procedimentos para atingir o "ISO ser humano" variam de pessoa para pessoa.
- (B) o conceito de saúde ultrapassa os limites físicos.
- (C) o bem-estar total é um dos aspectos da saúde física.
- (D) a saúde familiar é um fator relevante no contexto de vida do ser humano.
- (E) a qualidade de vida do ser humano depende do programa de saúde por ele estabelecido.

4

Analise a ordem em que os tópicos abaixo estão abordados no Texto I.

- I - O papel desempenhado pelo ser humano no sistema.
- II - A relação entre saúde e bem-estar.
- III - O conceito de ISO.
- IV - A qualidade total de vida.

A seqüência correta é:

- (A) I – II – III – IV
- (B) I – III – IV – II
- (C) II – III – IV – I
- (D) III – I – II – IV
- (E) III – IV – I – II



5

"Todos podem conseguir um viver melhor desde que haja uma firme decisão de se cuidar." (l. 36-37)

A segunda oração do período acima estabelece com a anterior uma relação de:

- (A) causa.
- (B) tempo.
- (C) conclusão.
- (D) concessão.
- (E) condição.

6

Considerando-se a regra ortográfica de "auto-estima", qual dos vocábulos abaixo está corretamente grafado?

- (A) Auto-ajuda.
- (B) Auto-destruição.
- (C) Auto-biografia.
- (D) Auto-correção.
- (E) Auto-motriz.

Texto II

NUNCA DESCUIDANDO DO DEVER

Jamais permitiria que seu marido fosse para o trabalho com a roupa mal passada, não dissessem os colegas que era esposa descuidada. Debruçada sobre a tábua com olho vigilante, dava caça às dobras, desfazia pregas, aplainando punhos e peitos, afinando o vinco das calças. E a poder de ferro e goma, envolta em vapores, alcançava o ponto máximo da sua arte ao arrancar dos colarinhos liso brilho de celulóide.

Impecável, transitava o marido pelo tempo. Que, embora respeitando ternos e camisas, começou subrepticiamente a marcar seu avanço na pele do rosto. Um dia notou a mulher um leve afrouxar-se das pálpebras. Semanas depois percebeu que, no sorriso, franziam-se fundos os cantos dos olhos.

Mas foi só muitos meses mais tarde que a presença de duas fortes pregas descendo dos lados do nariz até a boca tornou-se inegável. Sem nada dizer, ela esperou a noite. Tendo finalmente certeza de que o homem dormia o mais pesado dos sonos, pegou um paninho úmido e, silenciosa, ligou o ferro.

COLASANTI, Marina. **Contos de amor rasgados.**

7

Nas passagens "**Impecável**, transitava o marido pelo tempo." (l. 9) e "... a presença de duas fortes **pregas** ..." (l. 15-16), as palavras destacadas podem ser substituídas, sem alterar o sentido do texto, respectivamente, por:

- (A) imaculado – marcas.
- (B) infalível – rugas.
- (C) incensurável – manchas.
- (D) indiferente – dobras.
- (E) indiscutível – carquilhas.

8

No Texto II, o substantivo que, semanticamente, define a ação da mulher é:

- (A) gratidão.
- (B) respeito.
- (C) insegurança.
- (D) vaidade.
- (E) obstinação.

9

A relação entre o vocábulo destacado e a categoria gramatical a ele atribuída está correta em:

- (A) "... com a roupa **mal** passada," (l. 2) – adjetivo.
- (B) "... **que** era esposa descuidada." (l. 3) – pronome relativo.
- (C) "começou subrepticiamente **a** marcar..." (l. 10-11) – preposição.
- (D) "... um leve **afrouxar-se** das pálpebras." (l. 12-13) – verbo.
- (E) "... só **muitos** meses ..." (l. 15) – advérbio.

10

Assinale a opção em que, ao transcrever a oração "embora respeitando ternos e camisas," (l. 10), o sentido permanece.

- (A) Como respeitava ternos e camisas.
- (B) Ainda que respeitasse ternos e camisas.
- (C) Por respeitar ternos e camisas.
- (D) Quando respeitou ternos e camisas.
- (E) Uma vez que respeitava ternos e camisas.



CONHECIMENTOS GERAIS

11

Das proibições feitas aos servidores públicos do Estado do Tocantins fazem parte:

- I - ausentar-se do serviço durante o expediente sem autorização;
- II - receber presente em razão de suas atribuições;
- III - recusar fé a documentos públicos;
- IV - utilizar recursos do Estado para fins particulares;
- V - recusar-se a atualizar seus dados cadastrais, quando solicitado.

Estão corretos os itens:

- (A) II e IV, apenas.
- (B) I, II e III, apenas.
- (C) II, III e IV, apenas.
- (D) I, II, III e IV, apenas.
- (E) I, II, III, IV e V.

12

A aposentadoria é um direito do servidor público. O principal documento que garante esse direito é o(a):

- (A) Estatuto Único dos Servidores Públicos.
- (B) Estatuto do Idoso.
- (C) Constituição Federal.
- (D) Lei de Seguridade Social.
- (E) Consolidação das Leis Trabalhistas.

13

A Secretaria de Saúde do Estado do Tocantins estabeleceu várias ações importantes, tais como criação de unidades de saúde, capacitação de profissionais, campanhas de vacinação, medidas de saneamento e criação de Agentes Comunitários. Isto significa que no Estado desenvolve-se uma política de saúde com caráter:

- (A) assistencial.
- (B) emergencial.
- (C) populista.
- (D) preventivo.
- (E) terapêutico.

14

Nos últimos anos, a economia tocantinense tem demonstrado um excelente desempenho. Em 2003, as exportações aumentaram cerca de 646% em relação a todo o ano de 2001, sendo esse crescimento do comércio exterior puxado especialmente pelas exportações de:

- (A) soja.
- (B) feijão.
- (C) milho.
- (D) arroz.
- (E) algodão.


15

O Aeroporto Internacional de Palmas é considerado estratégico pela Infraero para a movimentação de cargas e passageiros. Isto acontece porque o aeroporto:

- (A) é um dos mais modernos aeroportos de médio porte do País.
- (B) tem capacidade para mais de 350 000 passageiros/ano.
- (C) vem aumentando gradativamente seu movimento.
- (D) localiza-se próximo à Usina de Lajeado.
- (E) situa-se no ponto mais central do País.


NOÇÕES DE INFORMÁTICA

16

O botão  da barra de ferramentas Padrão do Word permite:

- (A) chamar o calendário.
- (B) exibir o mapa do documento.
- (C) inserir uma tabela.
- (D) inserir uma planilha do Excel.
- (E) remover objetos selecionados.






17

A célula A3 de uma planilha Excel contém e apresenta o valor 0,62. Se esta célula for selecionada e, em seguida, o botão  for pressionado, a célula A3 passará a conter o valor:



- (A) 0,62 e exibir 6,2%
- (B) 0,62 e exibir 62%
- (C) 6,2 e exibir 6,2%
- (D) 6,2 e exibir 62%
- (E) 62 e exibir 62%

18

No Outlook, o ícone que indica que uma mensagem possui algum documento anexo é:

- (A) 
- (B) 
- (C) 
- (D) 
- (E) 

19

Os ícones  e  ao lado de uma mensagem no Outlook indicam, respectivamente, que a mensagem apresenta prioridade:

- (A) baixa e ainda não foi lida.
- (B) baixa e já foi lida.
- (C) alta e ainda não foi lida.
- (D) alta e já foi respondida.
- (E) alta e já foi encaminhada.

20

No Windows 2000 a combinação padrão de teclas "Ctrl + Z" é utilizada para:

- (A) excluir o item selecionado.
- (B) exibir a caixa de diálogo executar.
- (C) exibir o menu iniciar.
- (D) desfazer o efeito do último comando.
- (E) minimizar todas as janelas abertas.



CONHECIMENTOS ESPECÍFICOS

21

De acordo com a Constituição Federal de 1988, assinale a afirmativa correta, a respeito do Sistema Único de Saúde (SUS).

- (A) O SUS deve colaborar com as ações de saúde do trabalhador.
- (B) O SUS deve ser centralizado, com direção do governo Federal.
- (C) As instituições privadas de saúde devem participar do SUS.
- (D) Compete ao SUS controlar a proteção do meio ambiente.
- (E) Compete ao SUS fiscalizar e inspecionar alimentos.

22

Em relação à saúde do trabalhador, é disposição da Lei 8.080/1990, que trata das condições para a promoção, proteção e recuperação da saúde e da organização e funcionamento dos serviços correspondentes:

- (A) a garantia ao sindicato dos trabalhadores de requerer a interdição de máquina, quando houver exposição a risco para a saúde dos trabalhadores.
- (B) a indicação da entidade sindical regional como responsável pelo acompanhamento e avaliação do impacto das novas tecnologias à saúde.
- (C) a promoção de atividades de educação para a saúde como a determinação do uso de equipamentos de proteção individual.
- (D) a responsabilidade da entidade sindical pela informação e o controle dos riscos de acidentes de trabalho e das doenças profissionais nas empresas.
- (E) as políticas de saúde do trabalhador com a responsabilidade da formação de recursos e promoção de cursos de reciclagem.

23

São princípios do Sistema Único de Saúde (SUS) que constam na Lei 8.080 de 19 de setembro de 1990:

- (A) centralização, utilização da epidemiologia e regionalização.
- (B) igualdade, universalidade e direito à informação.
- (C) igualdade, duplicidade de meios e hierarquização.
- (D) universalidade, integralidade e autonomia da comunidade.
- (E) regionalização, centralização e individualidade das ações.

24

Faz parte do SUS um subsistema de Atenção à Saúde Indígena que deve:

- (A) ser custeado exclusivamente pela União, com seus recursos próprios.
- (B) ser centralizado, hierarquizado e regionalizado, tal como o SUS.
- (C) adotar um modelo de atenção à saúde pautado por uma abordagem diferenciada e global.
- (D) selecionar as populações indígenas a serem atendidas.
- (E) servir de retaguarda e referência ao SUS nas regiões onde residem as populações indígenas.

25

Em relação aos recursos humanos que atuam no SUS são feitas as afirmações a seguir.

- I - Os cargos e funções de chefia, direção e assessoramento, só poderão ser exercidos em regime de tempo integral.
- II - Os servidores que legalmente acumulam dois cargos ou empregos somente poderão exercer suas atividades em um único estabelecimento do SUS.
- III - Somente poderão exercer suas atividades em mais de um estabelecimento do SUS os ocupantes de cargos ou funções de chefia, direção ou assessoramento.

Está(ão) correta(s) a(s) afirmação(ões):

- (A) I, apenas.
- (B) II, apenas.
- (C) I e III, apenas.
- (D) II e III, apenas.
- (E) I, II e III.

26

Paciente apresenta queixa de perda de paladar nos dois terços anteriores da língua. Tal queixa sugere complicações com o par craniano:

- (A) V
- (B) VII
- (C) IX
- (D) XI
- (E) XII

27

O ramo da carótida externa que possui íntima relação anatômica com a glândula submandibular é a artéria:

- (A) facial.
- (B) maxilar.
- (C) bucal.
- (D) labial inferior.
- (E) temporal superficial.

28

Os ramos terminais do nervo infra-orbitário, inervam sensitivamente o tecido mole das seguintes regiões:

- I - pálpebra superior;
- II - pálpebra inferior;
- III - asa do nariz;
- IV - lábio superior.

Estão corretas as regiões:

- (A) I e II, somente.
- (B) III e IV, somente.
- (C) I, III e IV, somente.
- (D) II, III e IV, somente.
- (E) I, II, III e IV.



29

De quantos tubetes anestésicos é a dose máxima recomendada de uma solução anestésica de lidocaína a 2% em um homem de 70 Kg?

- (A) 2 (B) 4 (C) 8 (D) 14 (E) 20

30

Em uma cirurgia para remoção de um elemento dentário incluso, a profilaxia antibiótica está indicada quando o paciente tem:

- (A) marca-passo.
(B) enxerto coronariano autógeno com mais de 12 meses.
(C) sopro cardíaco funcional.
(D) infarto agudo do miocárdio há mais de 12 meses.
(E) prolapso mitral com regurgitação.

31

A droga de primeira escolha no tratamento empírico das infecções odontogênicas é a:

- (A) eritromicina.
(B) penicilina.
(C) clindamicina.
(D) cefalexina.
(E) tetraciclina.

32

O quadro clínico gravíssimo que se apresenta com proptose, febre, embotamento de consciência, oftalmoplegia ou paralisia dos nervos oculomotor, troclear e abducente, com história de infecção maxilar, é compatível com:

- (A) mediastinite.
(B) sífilis terciária.
(C) granuloma letal mediano.
(D) angina de Ludwig.
(E) trombose de seio cavernoso.

33

O fórceps indicado na exodontia do primeiro pré-molar inferior esquerdo é o de número:

- (A) 17 (B) 18 L (C) 23 (D) 150 (E) 151

34

Para correta anestesia local na exodontia do primeiro molar inferior, devem ser bloqueados os nervos:

- (A) mentoniano e lingual.
(B) mentoniano e bucal.
(C) mentoniano, bucal e lingual.
(D) alveolar inferior, bucal e lingual.
(E) alveolar inferior, lingual e mentoniano.

35

Na avaliação imediata de um paciente com traumatismo facial, a primeira preocupação do cirurgião bucomaxilofacial deve ser:

- (A) conter sangramentos menores de tecido
(B) iniciar antibióticoterapia profilática
(C) fixar todas as fraturas de face
(D) avaliar a permeabilidade e desobstruir as vias aéreas.
(E) suturar todas as feridas de face.

36

A região da mandíbula mais comumente afetada por fraturas é o(a):

- (A) ramo ascendente.
(B) processo condilar.
(C) corpo de mandíbula.
(D) rebordo alveolar.
(E) sínfise mandibular.

37

Que tecido, histologicamente diferente do que recobre a maioria das outras articulações sinoviais, cobre as superfícies articulares das articulações temporomandibulares?

- (A) Cartilagem hialina.
(B) Cartilagem mista.
(C) Fibrocartilagem.
(D) Perióstio.
(E) Tecido fibroso vascularizado.

38

Uma celulite odontogênica pode ser potencialmente perigosa se atingir o mediastino. Esta comunicação se dá preferencialmente pelo espaço tecidual:

- (A) bucal.
(B) retrofaríngeo.
(C) sublingual.
(D) submandibular.
(E) da fossa canina.

39

As tromboflebitides da face podem ser potencialmente perigosas pela íntima relação entre as veias extracranianas e intracranianas. Uma dessas perigosas complicações é a trombose do seio cavernoso, mais frequentemente causada pela relação das veias:

- (A) jugular externa e jugular interna.
(B) jugular interna e facial.
(C) facial e oftálmica superior.
(D) facial e jugular externa.
(E) oftálmica inferior e labial.



40

A única droga anestésica local contra-indicada em pacientes com história de alergia comprovada a drogas que contenham enxofre é a:

- (A) articaína.
- (B) lidocaína.
- (C) procaína.
- (D) prilocaína.
- (E) bupivacaína.

41

A utilização de antiinflamatórios esteróides-hormonais em cirurgia de dentes inclusos reduz o edema e o trismo pós-operatório. Um protocolo bastante eficaz, seguro e por via oral para pacientes adultos e saudáveis é:

	Dexametasona (mg)	hora(s) antes
(A)	1	1
(B)	1	6
(C)	8	1
(D)	8	12
(E)	80	1

42

Para remover objetos aspirados que estejam obstruindo completamente as vias aéreas, através de pressão abdominal, utiliza-se a Manobra de:

- (A) Heimlich.
- (B) Verryl.
- (C) Wassmund.
- (D) Partch.
- (E) Dingman.

43

Durante a cirurgia, a técnica que tem como objetivo evitar que microorganismos ganhem acesso às feridas cirúrgicas denomina-se:

- (A) esterilização.
- (B) desinfecção.
- (C) sanitização.
- (D) assepsia cirúrgica.
- (E) anti-sepsia cirúrgica.

44

Dentre as alternativas abaixo, qual representa uma contra-indicação local para a exodontia de um elemento dentário?

- (A) Abscesso dentoalveolar agudo.
- (B) Dentes com coroa fraturada.
- (C) Dentes anquilosados.
- (D) Dentes localizados intra-ósseos.
- (E) Dentes localizados dentro de uma área de um tumor maligno em fase de pré-tratamento.

45

Em pacientes que sofreram radioterapia na região da cabeça e pescoço, a osteorradionecrose é uma complicação relativamente comum e grave. A maneira mais correta de prevenir tal complicação, em casos de necessidade de exodontias pós-irradiação, é fazer:

- (A) bochechos pós-operatórios com clorexidina por 14 dias.
- (B) a cicatrização dos tecidos moles por segunda intenção.
- (C) antibioticoterapia profilática, fechamento primário da ferida e terapia com oxigênio hiperbárico antes e após o procedimento.
- (D) antibioticoterapia pós-operatória por 30 dias.
- (E) irrigação local com clindamicina por 3 dias através de dreno rígido após o procedimento.

46

Na análise cefalométrica de um paciente candidato à cirurgia ortognática, a posição antero-posterior da mandíbula pode ser avaliada através do(a):

- (A) ângulo SNB.
- (B) ângulo SNA.
- (C) ângulo naso-labial.
- (D) inclinação do plano mandibular (Go-Gn).
- (E) relação glabella-subnasal (G-Sn) e subnasal-mento em partes moles (Sn-Me').

47

A patologia óssea que ocorre com maior frequência na região anterior da mandíbula é o:

- (A) ameloblastoma.
- (B) cementoblastoma.
- (C) granuloma de células gigantes central.
- (D) fibroma cemento-ossificante.
- (E) tumor odontogênico epitelial calcificante.

48

Dentre as síndromes abaixo, assinale aquela que tem como característica a presença de múltiplos dentes inclusos ou encravados.

- (A) Hipofosfatasia.
- (B) Síndrome de Down.
- (C) Síndrome de Papillon-Lefèvre.
- (D) Displasia cleidocraniana.
- (E) Displasia ectodérmica.

49

A lesão odontogênica que faz parte da Síndrome de Gorlin chama-se:

- (A) carcinoma nevóide basocelular.
- (B) odontoma.
- (C) osteoma.
- (D) ameloblastoma.
- (E) ceratocisto.



50

Observe a seqüência abaixo.

- I - dentes maxilares posteriores, deixando o primeiro molar;
- II - dentes maxilares anteriores, deixando o canino;
- III - primeiro molar maxilar;
- IV - canino maxilar.

No caso de indicação de exodontias múltiplas de todos os dentes do quadrante maxilar esquerdo, a seqüência tecnicamente mais correta é:

- (A) I, II, III, IV.
- (B) II, I, IV, III.
- (C) III, I, IV, II.
- (D) IV, II, III, I.
- (E) IV, III, II, I.