

ARQUIVISTA

LEIA ATENTAMENTE AS INSTRUÇÕES ABAIXO.

- 01 - Você recebeu do fiscal o seguinte material:
- a) este caderno, com o enunciado das 55 questões das Provas Objetivas e das 2 (duas) questões da Prova Discursiva, sem repetição ou falha, com a seguinte distribuição:

LÍNGUA PORTUGUESA II		CONHECIMENTOS GERAIS II				CONHECIMENTOS ESPECÍFICOS			
Questões	Pontos	Questões	Pontos	Questões	Pontos	Questões	Pontos	Questões	Pontos
1 a 5	1,5	11 a 15	0,5	21 a 25	1,5	31 a 35	1,8	46 a 50	2,4
6 a 10	2,5	16 a 20	1,0	26 a 30	2,0	36 a 40	2,0	51 a 55	2,6
						41 a 45	2,2		

- b) Um Caderno de Respostas para o desenvolvimento da Prova Discursiva, grampeado ao **CARTÃO-RESPOSTA** destinado às respostas às questões objetivas formuladas nas provas.
- 02 - Verifique se este material está em ordem e se o seu nome e número de inscrição conferem com os que aparecem no **CARTÃO-RESPOSTA**. Caso contrário, notifique **IMEDIATAMENTE** o fiscal.
- 03 - Após a conferência, o candidato deverá assinar no espaço próprio do **CARTÃO-RESPOSTA**, preferivelmente a caneta esferográfica de tinta na cor preta.
- 04 - No **CARTÃO-RESPOSTA**, a marcação das letras correspondentes às respostas certas deve ser feita cobrindo a letra e preenchendo todo o espaço compreendido pelos círculos, a **caneta esferográfica de tinta na cor preta**, de forma contínua e densa. A LEITORA ÓTICA é sensível a marcas escuras; portanto, preencha os campos de marcação completamente, sem deixar claros.
- Exemplo: (A) ● (C) (D) (E)
- 05 - Tenha muito cuidado com o **CARTÃO-RESPOSTA**, para não o **DOBRAR, AMASSAR ou MANCHAR**. O **CARTÃO-RESPOSTA SOMENTE** poderá ser substituído caso esteja danificado em suas margens superior ou inferior - **BARRA DE RECONHECIMENTO PARA LEITURA ÓTICA**.
- 06 - Para cada uma das questões objetivas, são apresentadas 5 alternativas classificadas com as letras (A), (B), (C), (D) e (E); só uma responde adequadamente ao quesito proposto. Você só deve assinalar **UMA RESPOSTA**: a marcação em mais de uma alternativa anula a questão, **MESMO QUE UMA DAS RESPOSTAS ESTEJA CORRETA**.
- 07 - As questões objetivas são identificadas pelo número que se situa acima de seu enunciado.
- 08 - **SERÁ ELIMINADO** do Concurso Público o candidato que:
- a) se utilizar, durante a realização das provas, de máquinas e/ou relógios de calcular, bem como de rádios gravadores, *headphones*, telefones celulares ou fontes de consulta de qualquer espécie;
- b) se ausentar da sala em que se realizam as provas levando consigo o Caderno de Questões e/ou o **CARTÃO-RESPOSTA** grampeado ao Caderno de Respostas da Prova Discursiva;
- c) se recusar a entregar o Caderno de Questões e/ou o **CARTÃO-RESPOSTA** grampeado ao Caderno de Respostas da Prova Discursiva quando terminar o tempo estabelecido.
- 09 - Reserve os 30 (trinta) minutos finais para marcar seu **CARTÃO-RESPOSTA**. Os rascunhos e as marcações assinaladas no Caderno de Questões **NÃO SERÃO LEVADOS EM CONTA**.
- 10 - Quando terminar, entregue ao fiscal **O CADERNO DE QUESTÕES E O CARTÃO-RESPOSTA** grampeado ao Caderno de Respostas da Prova Discursiva e **ASSINE A LISTA DE PRESENÇA**.
Obs. O candidato só poderá se ausentar do recinto das provas após **1 (uma) hora** contada a partir do efetivo início das mesmas. Por motivo de segurança, o candidato **não** poderá levar o Caderno de Questões, a qualquer momento.
- 11 - **O TEMPO DISPONÍVEL PARA ESTAS PROVAS DE QUESTÕES OBJETIVAS E DISCURSIVAS É DE 4 (QUATRO) HORAS E 30 (TRINTA) MINUTOS**, findo o qual o candidato deverá, **obrigatoriamente**, entregar o Caderno de Questões e o **CARTÃO-RESPOSTA** grampeado ao Caderno de Respostas da Prova Discursiva.
- 12 - As questões e os gabaritos das Provas Objetivas serão divulgados no primeiro dia útil após a realização das mesmas, no endereço eletrônico da **FUNDAÇÃO CESGRANRIO** (<http://www.cesgranrio.org.br>).

LÍNGUA PORTUGUESA II

Texto I

O Cerco Total aos Fumantes

O estado de São Paulo aprova a lei antifumo mais restritiva do país. É um grande passo para tentar apagar o cigarro da vida moderna.

A vida de quem fuma só piora no Brasil e no mundo. Mas agora, em São Paulo, fumar virou um inferno. Daqui para a frente, será proibido acender cigarros, cachimbos e charutos em qualquer ambiente coletivo fechado em todo o estado. Isso significa que: 1) restaurantes não poderão mais ter alas para fumantes; 2) bares terão de aposentar seus cinzeiros; 3) hotéis passarão a fiscalizar seus hóspedes; e 4) empresas serão obrigadas a fechar as acinzentadas salinhas conhecidas como fumódromos. Quem quiser dar suas tragadas só poderá fazê-lo em casa, no carro ou ao ar livre. A lei é tão rigorosa que mesmo ambientes com teto alto e sem paredes, como marquises, serão vetados ao tabaco. Os empresários que não se adequarem à lei em noventa dias poderão ser multados em até 3,2 milhões de reais. É para deixar qualquer um sem fôlego. (...)

No Palácio dos Bandeirantes quem quer fumar um cigarro precisa andar 500 metros, cruzar o portão e sair para a rua. “Quando chove é pior, porque a gente precisa usar o guarda-chuva para chegar lá”, conta um funcionário da Casa Civil do governo. “Ficou tão difícil fumar que até decidi parar”, diz ele. (...)

Quem considera a lei exagerada deve saber que São Paulo apenas se alinha a uma tendência mundial. Em Londres, desde 2007 não se pode fumar em espaços fechados, como *pubs*, cafés, restaurantes e escritórios. Lá, também foram extintos os fumódromos. Em Nova York, já é proibido fumar em lugares fechados, desde 2003. No estado americano da Califórnia, a lei é ainda mais dura. Há mais de um ano é vetado fumar dentro dos carros se um dos passageiros tiver menos de 18 anos. Na cidade de Belmont, também na Califórnia, a restrição chega aos lares. Não se podem acender cigarros em apartamentos que dividam chão, teto ou parede com outros. Os fumantes americanos têm outro problema com que se preocupar: eles pagam, em média, 25% a mais pelo plano de saúde, já que o cigarro está associado a um sem-número de doenças. O caso mais radical é o do Butão, pequeno país espremido entre a Índia e a China, que simplesmente banuiu a venda de tabaco em 2004. A brasa do tabagismo está-se apagando mundo afora. E a maioria não fumante não quer deixar que ela seja reavivada.

BRASIL, Sandra. *Revista Veja*, 15 abr. 2009. (Adaptado)

1

Na segunda frase do Texto I, (ℓ. 2-3) o autor emprega uma imagem coloquial e impactante que tem como objetivo

- (A) atrair a atenção do leitor ao apresentar, logo no princípio, uma opinião defendida na matéria.
- (B) contrastar de maneira jocosa o teor científico da matéria e a leveza do veículo utilizado.
- (C) ironizar a postura adotada em São Paulo acerca do fumo.
- (D) apresentar o argumento dos países estrangeiros para, em seguida, contrapô-lo.
- (E) revelar opiniões divergentes sobre o assunto proibição do fumo no Brasil.

2

O Texto I é uma matéria jornalística. Entretanto, emprega na sua estrutura construções que revelam um teor expressivo por meio do uso de figuras de linguagem, trocadilhos e ambiguidades. A passagem que **NÃO** serve de exemplo para essa afirmação é

- (A) “Mas agora, em São Paulo, fumar virou um inferno.” (ℓ. 2-3)
- (B) “bares terão de aposentar seus cinzeiros;” (ℓ. 7)
- (C) “É para deixar qualquer um sem fôlego.” (ℓ. 16-17)
- (D) “Em Nova York, já é proibido fumar em lugares fechados, desde 2003.” (ℓ. 29-30)
- (E) “A brasa do tabagismo está-se apagando mundo afora.” (ℓ. 43)

3

Na passagem “Os empresários que não se adequarem à lei em noventa dias poderão ser multados em até 3,2 milhões de reais.” (ℓ. 14-16), o termo **que** apresenta a mesma classe gramatical que em

- (A) “A lei é tão rigorosa que mesmo ambientes com teto alto e sem paredes,” (ℓ. 12-13)
- (B) “‘Ficou tão difícil fumar que até decidi parar’,” (ℓ. 22-23)
- (C) “Quem considera a lei exagerada deve saber que São Paulo apenas se alinha a uma tendência mundial.” (ℓ. 24-25)
- (D) “Os fumantes americanos têm outro problema com que se preocupar:” (ℓ. 36-37)
- (E) “E a maioria não fumante não quer deixar que ela seja reavivada.” (ℓ. 44-45)

Texto II

RECORDE NA PRODUÇÃO DE RIQUEZAS
FAZ BRASIL SER A 12ª ECONOMIA MUNDIAL



WILLY. *Tribuna da Imprensa* (RJ), 02 abr. 05.

A charge é um gênero textual que apresenta um caráter burlesco e caricatural, em que se satiriza um fato específico, em geral de caráter político e que é do conhecimento público.

4

No plano linguístico, o humor da charge

- (A) tem como foco a imagem antagônica entre a palavra riqueza e a figura do homem maltrapilho.
- (B) baseia-se no jogo polissêmico da palavra economia, ora empregada como ciência, ora como conter gastos.
- (C) baseia-se na linguagem não verbal, que apresenta um homem subnutrido como um exemplo de brasileiro.
- (D) está centrado na ironia com que é tratada a produção de riquezas no Brasil.
- (E) reside na ideia de um morador de rua saber falar tão bem sobre assuntos como política, saúde e economia.

5

A primeira frase do personagem pode ser lida como uma hipótese formulada a partir da fala que faz a seguir. Apesar de não estarem ligadas por um conectivo, pode-se perceber a relação estabelecida entre as duas orações.

O conectivo que deve ser usado para unir essas duas orações, mantendo o sentido, é

- (A) embora.
- (B) entretanto.
- (C) logo.
- (D) se.
- (E) pois.

Texto III

Olívia se aproximou de Eugênio e com um lenço enxugou-lhe o suor da testa. Estava terminada a traqueostomia. A enfermeira juntava os ferros. Ruído de metais tinindo, de mesas se arrastando.

5 Eugênio tirou as luvas e foi tomar o pulso do pequeno paciente. A criança como que ressuscitava. A respiração voltava lentamente, a princípio superficial, depois mais funda e visível. O rosto perdia aos poucos a rigidez cianótica.

10 Eugênio examinava-lhe as mudanças do rosto com comovida atenção.

Vencera! Salvara a vida de uma criança!

A vida é boa! – pensava Eugênio. Ele tinha salvo uma criança. Começou a cantarolar baixinho

15 uma canção antiga que julgava esquecida. Sorvia com delícia o refresco impregnado do cheiro da gasolina queimada. Sentia-se leve e aéreo. Era como se dentro dele as nuvens de tempestade se tivessem despejado em chuva e sua alma agora estivesse

20 límpida, fresca e estrelada como a noite.

– Por que será – perguntou ele a Olívia – por que será que às vezes de repente a gente tem a impressão de que acabou de nascer... ou de que o mundo ainda está fresquinho, recém-saído das mãos

25 de quem o fez?

VERÍSSIMO, Érico. **Olhai os lírios do campo**. Rio de Janeiro: Globo, 1987. (Fragmento)

6

Para descrever a sensação do personagem em salvar a criança, no 4º parágrafo, o narrador emprega algumas estratégias como o uso de adjetivos, comparações, além de imagens poéticas.

Qual dos substantivos a seguir expressa tal sensação do personagem?

- (A) Cansaço
- (B) Angústia
- (C) Certeza
- (D) Empáfia
- (E) Alívio

7

Sinais de pontuação ajudam a revelar a expressividade de um texto. A exclamação presente no terceiro parágrafo (ℓ.12) do Texto III é empregada, sobretudo, para revelar

- (A) assombro.
- (B) indignação.
- (C) surpresa.
- (D) tensão.
- (E) admiração.

8

A Gramática da Língua Portuguesa prevê que o emprego do acento grave para indicar a ocorrência de crase pode ser facultativo em alguns casos.

Em qual das passagens transcritas do texto há a ocorrência da crase, e o emprego do acento grave é facultativo?

- (A) “Estava terminada **a** traqueostomia.” (l. 2-3)
- (B) “A respiração voltava lentamente, **a** princípio superficial, depois mais funda e visível.” (l. 7-8)
- (C) “Começou **a** cantarolar baixinho uma canção antiga que julgava esquecida.” (l. 14-15)
- (D) “– Por que será – perguntou ele **a** Olívia –” (l. 21)
- (E) “...a gente tem **a** impressão de que acabou de nascer...” (l. 22-23)

9

Na passagem “Eugênio examinava-lhe as mudanças do rosto com comovida atenção.” (l. 10-11), o pronome oblíquo **lhe** exerce função sintática idêntica ao termo destacado em

- (A) “Olívia se aproximou **de Eugênio...**” (l. 1)
- (B) “A enfermeira juntava **os ferros.**” (l. 3)
- (C) “A respiração voltava **lentamente,**” (l. 7)
- (D) “Vencera! Salvava a vida **de uma criança!**” (l. 12)
- (E) “Sentia-se **leve e aéreo.**” (l. 17)

Texto IV

Pare enquanto há tempo



Disponível em: <http://www.clickmarket.com.br>

10

Na propaganda apresentada, o texto verbal que sintetiza corretamente as ideias presentes estritamente na imagem é que o cigarro é um(a)

- (A) vício que leva as pessoas à morte.
- (B) instrumento de prazer e desgosto, ao mesmo tempo.
- (C) arma, e por meio dela você está se matando.
- (D) forma de sociabilização das pessoas, mas mata.
- (E) marca do desequilíbrio das pessoas, antes de tudo.

CONHECIMENTOS GERAIS II

11

Qual é a negação da proposição “Alguma lâmpada está acesa e todas as portas estão fechadas”?

- (A) Todas as lâmpadas estão apagadas e alguma porta está aberta.
- (B) Todas as lâmpadas estão apagadas ou alguma porta está aberta.
- (C) Alguma lâmpada está apagada e nenhuma porta está aberta.
- (D) Alguma lâmpada está apagada ou nenhuma porta está aberta.
- (E) Alguma lâmpada está apagada e todas as portas estão abertas.

12

Em uma urna há 5 bolas pretas, 4 bolas brancas e 3 bolas verdes. Deseja-se retirar, aleatoriamente, certa quantidade de bolas dessa urna. O número mínimo de bolas que devem ser retiradas para que se tenha certeza de que entre elas haverá 2 de mesma cor é

- (A) 8 (B) 7 (C) 5 (D) 4 (E) 3

13

Considere a pergunta e as três informações apresentadas a seguir.

Pergunta: Duílio é mais alto do que Alberto?

1ª informação: Alberto é mais alto que Bruno.

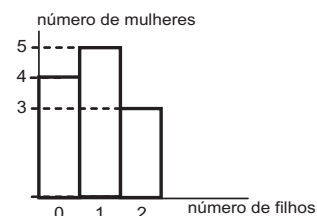
2ª informação: Alberto é mais alto que Carlos.

3ª informação: Duílio é mais alto que Bruno.

A partir desses dados, conclui-se que

- (A) a primeira informação e a segunda informação, em conjunto, são suficientes para que se responda corretamente à pergunta.
- (B) a primeira informação e a terceira informação, em conjunto, são suficientes para que se responda corretamente à pergunta.
- (C) a segunda informação e a terceira informação, em conjunto, são suficientes para que se responda corretamente à pergunta.
- (D) as três informações, em conjunto, são suficientes para que se responda corretamente à pergunta.
- (E) as três informações, em conjunto, são insuficientes para que se responda corretamente à pergunta.

14




O gráfico acima classifica 12 mulheres em função da quantidade de filhos. Juntando-se todos os filhos dessas mulheres, tem-se um total de filhos igual a

- (A) 8 (B) 10 (C) 11 (D) 12 (E) 15

15

A figura ao lado apresenta uma página sendo visualizada no Microsoft Internet Explorer em sua configuração padrão. Sobre a figura acima e os recursos do Microsoft Internet Explorer é **FALSO** afirmar que



- (A) o ícone  é utilizado para acessar o Windows Messenger.
- (B) a figura apresenta o Microsoft Internet Explorer com quatro guias abertas.
- (C) os Favoritos são páginas cujos links foram salvos pelo usuário para posterior acesso.
- (D) no campo Endereço pode ser digitado a URL do site que o usuário deseja navegar.
- (E) através do Microsoft Internet Explorer é possível navegar em sites que não são seguros.



16

Considere a tabela ao lado em uma planilha do Microsoft Excel, que apresenta a quantidade de empregados por setor de uma empresa.

A respeito do Excel e de seus recursos, são feitas as afirmativas a seguir.

- I – Para somar a quantidade de empregados da empresa, deve-se digitar, na célula B6, a fórmula =SOMA(B2:B5).
- II – Através do ícone , o usuário pode classificar os setores da empresa, em ordem alfabética crescente.
- III – O ícone  pode ser utilizado para definir bordas para as células da planilha.



	A	B
1	Setor	Quantidade de empregados
2	Financeiro	5
3	Compras	2
4	RH	2
5	Informática	20
6		
7		

Está(ão) correta(s) a(s) afirmativa(s)

- (A) I, somente.
- (B) II, somente.
- (C) I e II, somente.
- (D) II e III, somente.
- (E) I, II e III.

17

Para que possam funcionar, os microcomputadores devem estar dotados de recursos de hardware e de software. A esse respeito, é correto afirmar que a(o)

- (A) memória RAM é o software no qual o hardware de sistema operacional é processado.
- (B) unidade de DVD é um software que serve para gravar os arquivos usados pelo microcomputador.
- (C) Firefox é um conjunto de componentes eletrônicos, circuitos integrados e placas, que se comunicam através de barramentos.
- (D) Mapa de Caracteres do Windows XP é um hardware utilizado para gerenciar discos rígidos do microcomputador.
- (E) modem é um hardware que pode ser utilizado para fazer a comunicação entre o microcomputador e a Internet.

18

A Segurança da Informação se refere à proteção existente sobre as informações de uma determinada empresa ou pessoa, aplicando-se tanto às informações corporativas quanto às pessoais. Abaixo, são apresentadas algumas propriedades básicas que, atualmente, orientam a análise, o planejamento e a implementação da segurança para um determinado grupo de informações que se deseja proteger.

Relacione as propriedades apresentadas na coluna da esquerda com as respectivas descrições, na coluna da direita.

Propriedade	Descrição
I – Confidencialidade	(Q) Propriedade que limita o acesso à informação tão somente às entidades legítimas, ou seja, àquelas autorizadas pelo proprietário da informação.
II – Disponibilidade	(R) Propriedade que garante que a informação manipulada mantenha todas as características originais estabelecidas pelo proprietário da informação, incluindo controle de mudanças e garantia do seu ciclo de vida (nascimento, manutenção e destruição).
III – Integridade	

Estão corretas as associações:

- (A) I – Q; II – R
- (B) I – Q; III – R
- (C) I – R; II – Q
- (D) II – Q; III – R
- (E) II – R; III – Q

19

Nos termos da Lei nº 8.080/90 (Art. 6, I, a), inclui-se no campo de atuação do SUS, dentre outras, a execução de ações de vigilância sanitária. A este respeito, considere as afirmativas a seguir.

- I – À União é vedada a execução de ações e serviços de vigilância sanitária, cabendo à direção nacional apenas definir e coordenar os sistemas de vigilância sanitária.
- II – A execução de ações e serviços de vigilância sanitária é de competência dos Municípios, podendo ser exercida, em caráter complementar, pelos Estados.
- III – Aos Municípios é vedada a execução de ações e serviços de vigilância sanitária em portos, aeroportos e fronteiras.

Está(ão) correta(s) **APENAS** a(s) afirmativa(s)

- (A) I.
- (B) II.
- (C) III.
- (D) I e II.
- (E) I e III.

20

De acordo com o Art. 199 da Constituição Federal, “a assistência à saúde é livre à iniciativa privada”. No entanto,

- (A) só poderão participar do Sistema Único de Saúde as entidades privadas que sejam filantrópicas ou sem fins lucrativos.
- (B) é vedada a destinação de recursos públicos para subvenções às instituições privadas.
- (C) é vedada a participação de empresas estrangeiras na assistência à saúde no País.
- (D) as instituições privadas só poderão participar do Sistema Único de Saúde de forma complementar e em condições de igualdade entre si.
- (E) a participação das instituições privadas, incluindo as entidades filantrópicas e as sem fins lucrativos, só ocorrerá mediante contrato de direito público ou convênio.

21

A Lei nº 9.836/99 acrescentou à Lei nº 8.080/90 dispositivos que tratam do Subsistema de Atenção à Saúde Indígena. Sobre este Subsistema, é **INCORRETO** afirmar que

- (A) será financiado pela União, com recursos próprios, podendo Estados e Municípios atuar complementarmente no custeio e execução das ações.
- (B) será centralizado na União, podendo contar com a participação de instituições governamentais e não governamentais.
- (C) será descentralizado, hierarquizado e regionalizado, tal como o SUS.
- (D) atuará de forma articulada com os órgãos responsáveis pela Política Indígena do País.
- (E) deverá obrigatoriamente levar em consideração a realidade local e as especificidades da cultura dos povos indígenas.

22

A respeito dos direitos e garantias fundamentais previstos na Constituição Federal, considere as afirmativas a seguir.

- I – São gratuitos para os reconhecidamente pobres, na forma da lei, o registro civil de nascimento, a certidão de casamento e a certidão de óbito.
- II – Qualquer cidadão pode ajuizar uma ação popular para anular ato lesivo ao patrimônio público e à moralidade administrativa.
- III – Todos têm direito a receber dos órgãos públicos informações de seu interesse particular, salvo as informações cujo sigilo seja imprescindível à segurança da sociedade e do Estado.

Está(ão) correta(s) **APENAS** a(s) afirmativa(s)

- (A) I.
- (B) II.
- (C) I e II.
- (D) I e III.
- (E) II e III.

23

Suponha que seja aprovada uma lei estadual que estabeleça normas específicas sobre proteção e defesa da saúde. Esta lei será considerada

- (A) constitucional, porque é competência dos Estados editar normas específicas sobre proteção e defesa da saúde.
- (B) constitucional, porque são reservadas aos Estados as competências que não lhes são vedadas pela Constituição.
- (C) inconstitucional, porque é competência privativa da União legislar sobre proteção e defesa da saúde.
- (D) inconstitucional, porque é competência privativa dos Municípios editar normas específicas sobre proteção e defesa da saúde.
- (E) inconstitucional, porque é competência concorrente da União, dos Estados e dos Municípios legislar sobre proteção e defesa da saúde.

24

Considerando o Art. 2º da Lei Federal nº 4.717/65, que regula a ação popular, são elementos do ato administrativo:

- (A) a vinculação, a discricionariedade e a controlabilidade.
- (B) a competência, a forma, o objeto, a finalidade e o motivo.
- (C) a competência, a forma, a vinculação e a presunção de legalidade.
- (D) a presunção de legitimidade e a heteroexecutoriedade.
- (E) a presunção de legalidade, a economicidade e a eficiência.

25

Um candidato a um concurso buscou informações a respeito do provimento de cargos públicos. Ao consultar a Lei Federal nº 8.112/90, que dispõe sobre o Regime Jurídico dos Servidores Públicos Federais, verificou que

- (A) os cargos públicos são acessíveis a todos os brasileiros e somente podem ser criados por lei complementar, com denominação própria e vencimento pago pelo Tesouro.
- (B) o provimento de cargos comissionados depende de prévio procedimento público seletivo, e a exoneração é decisão discricionária da autoridade nomeante.
- (C) o concurso público terá validade de até três anos, podendo ser prorrogado uma única vez, por igual período.
- (D) é vedada a abertura de novo concurso público enquanto houver candidato aprovado em concurso anterior com prazo de validade não expirado.
- (E) é livre a nomeação para cargos em comissão, e a exoneração depende de processo administrativo em que seja assegurada ao servidor ampla defesa.

26

No que tange ao regime jurídico dos servidores públicos, analise as afirmativas abaixo.

- I – O servidor público responde civil, penal e administrativamente pelo exercício irregular de suas atribuições.
- II – Os atos de improbidade administrativa importarão a cassação de direitos políticos, a perda da função pública, a indisponibilidade dos bens e o ressarcimento ao erário.
- III – A responsabilidade civil decorre de ato omissivo ou comissivo, doloso ou culposo, que importe prejuízo ao patrimônio do Estado ou de terceiros.
- IV – A ação disciplinar prescreve em cinco anos, seja qual for a natureza da infração administrativa cometida pelo servidor.

É(São) correta(s) **APENAS** a(s) afirmativa(s)

- (A) I. (B) III.
- (C) I e III. (D) I e IV.
- (E) I, II e III.

27

Em processos administrativos, a exigência de interpretação da norma administrativa da forma que melhor garanta o atendimento do fim público a que se dirige, vedada a aplicação retroativa de nova interpretação, decorre da aplicação do princípio de

- (A) ampla defesa. (B) publicidade.
- (C) razoabilidade. (D) motivação.
- (E) segurança jurídica.

Considere a proposição abaixo para responder às questões de nºs 28 e 29.

O Estatuto da Fundação Nacional de Saúde – FUNASA (Decreto Federal nº 4.727/2003) – regula uma série de procedimentos e de competências.

28

De acordo com seu Estatuto, a FUNASA é

- (A) fundação pública vinculada ao Ministério da Saúde, constituindo entidade de promoção e proteção à saúde.
- (B) fundação pública regida inteiramente pelo Direito Privado, à qual compete fomentar soluções de saneamento para prevenção e controle de doenças.
- (C) fundação pública independente, com competência para baixar normas de vigilância sanitária.
- (D) autarquia pública vinculada ao Ministério da Saúde, à qual compete promover políticas de prevenção e controle de doenças e outros agravos à saúde.
- (E) agência reguladora vinculada ao Ministério da Saúde, à qual compete baixar normas de vigilância sanitária.

29

Analise as seguintes atribuições:

- I – prevenir e controlar doenças e outros agravos à saúde;
- II – assegurar a saúde dos povos indígenas;
- III – administrar e arrecadar a taxa de fiscalização de vigilância sanitária;
- IV – fomentar soluções de saneamento para prevenção e controle de doenças.

Competem à FUNASA as atribuições

- (A) I e IV, apenas.
- (B) II e III, apenas.
- (C) I, II e III, apenas.
- (D) I, II e IV, apenas.
- (E) I, II, III e IV.

30

No âmbito da FUNASA, a instauração de processos administrativos disciplinares e de Tomada de Contas Especiais compete à(ao)

- (A) Procuradoria Federal.
- (B) Auditoria Interna.
- (C) Departamento de Planejamento e Desenvolvimento Institucional.
- (D) Departamento de Engenharia de Serviço Público.
- (E) Departamento de Administração.

CONHECIMENTOS ESPECÍFICOS

31

A proposta de Reforma do Estado desenvolvida pelo governo federal, contendo o Plano Diretor da Reforma do Aparelho do Estado de 1995, identificava claramente a necessidade de redefinição do papel do Estado, apontando um quadro de crise que se diferenciava em várias dimensões, dentre elas, a crise fiscal, definida por

- (A) uso clientelista das instituições públicas.
- (B) perda de crédito público e por poupança pública negativa.
- (C) esgotamento do modelo protecionista de substituição de importações em vigor desde os anos 30.
- (D) desprofissionalização dos quadros de pessoal e extremo enrijecimento burocrático.
- (E) fracasso do modelo de Estado de bem-estar inspirado em valores da social-democracia europeia.

32

Accountability, Governabilidade e Governança são categorias muito utilizadas pelos cientistas políticos e por profissionais especializados na área de administração pública, cujos conceitos são importantes para a compreensão da formulação e da implementação das políticas públicas. Nesse contexto, como se caracteriza o conceito de Governabilidade?

- (A) Conjunto dos mecanismos e procedimentos para lidar com a dimensão participativa e plural da sociedade, o que implica expandir e aperfeiçoar os meios de interlocução e de administração do jogo de interesses.
- (B) Capacidade governativa em sentido amplo, envolvendo a capacidade de ação estatal na formulação e implementação das políticas, tendo em vista a consecução de metas coletivas.
- (C) Condições sistêmicas mais gerais sob as quais se dá o exercício do poder numa dada sociedade, refletindo características do sistema político, como a forma do governo, as relações entre os poderes, o sistema partidário e de intermediação de interesses.
- (D) Efetividade das políticas públicas elaboradas por governos, caracterizadas pelo rigor dos mecanismos que induzem os decisores a prestar contas dos resultados de suas ações, garantindo a transparência.
- (E) Prestação de contas pelo governo à Sociedade como fator de exposição pública das políticas.

33

Uma das grandes questões a serem enfrentadas pelas metrópoles nos dias de hoje é como tornar viável uma administração mais próxima dos cidadãos, como nos pequenos Municípios. Boa parte dos estudiosos converge para uma mesma solução, que estaria na descentralização e na criação de canais de participação popular. Entretanto, o tema, em geral, é tratado como se descentralização e participação fossem meras categorias administrativas. Nesta perspectiva, conceitua-se descentralização como

- (A) categoria administrativa voltada para a democratização do processo decisório cuja tônica se encontra na delegação de autoridade e autonomia.
- (B) prática de aproximar as estruturas prestadoras de serviços municipais dos cidadãos, situando-as nos locais de demanda destes serviços.
- (C) participação organizada dos cidadãos na tomada de decisões sobre as políticas públicas municipais.
- (D) criação de mecanismos que permitam o desenvolvimento de parceria entre governo e sociedade.
- (E) criação de mecanismos que permitam a participação dos cidadãos na elaboração do orçamento.

34

Arquivo é o conjunto de documentos produzidos por uma pessoa, firma ou governo, durante o desenvolvimento de suas atividades, e conservados para efeitos futuros. Na esteira deste conceito, é evidente que um documento destacado de seu conjunto significa menos do que quando no conjunto. Nesse sentido, o que liga um documento aos outros de seu conjunto é o seu caráter

- (A) administrativo. (B) ostensivo.
(C) epistemológico. (D) intrínseco.
(E) orgânico.

35

Um grupo de pesquisadores da área de meio ambiente, administração e engenharia está desenvolvendo estudos para definir o impacto ambiental na região onde será construída uma grande barragem. Os documentos produzidos ao longo dessas pesquisas devem apresentar formas físicas diversas, como fotografias aéreas, plantas e desenhos, cd-rom etc. Esses documentos vão constituir um arquivo

- (A) aberto. (B) secundário.
(C) especial. (D) técnico.
(E) intermediário.

36

A classificação de ostensivo é dada ao documento cuja divulgação

- (A) deve ser apenas oficial.
(B) deve ser de conhecimento restrito.
(C) não deve ser disponibilizada.
(D) não prejudica a administração.
(E) requer especial grau de sigilo.

37

O arquivo de uma clínica especializada em cirurgia plástica organiza a sua documentação corrente de acordo com a procedência, pois recebe clientes de todo o Brasil. A organização obedece à modalidade de Estado, Cidade e Correspondente, de acordo com as orientações de PAES (2004).

Considere os correspondentes:

- 1 – Ronaldo de Souza Filho – Belém – Pará;
2 – Antonio Souza – Presidente Figueiredo – Amazonas;
3 – Marco Antonio Figueiredo – Rio Preto da Eva – Amazonas;
4 – Dr. Pedro Souza Silva – Manaus – Amazonas;
5 – Deputado A. Souza – Crato – Ceará.

Esses correspondentes terão a seguinte ordem:

- (A) 5 – 2 – 3 – 1 – 4
(B) 4 – 3 – 2 – 5 – 1
(C) 4 – 2 – 3 – 5 – 1
(D) 3 – 2 – 1 – 4 – 5
(E) 1 – 2 – 3 – 5 – 4

38

O arquivo nosológico de um hospital no Estado do Tocantins organiza sua documentação por meio do método de indexação coordenada, visando a otimizar a recuperação da informação, como neste exemplo.

Hipertensão									
0	1	2	3	4	5	6	7	8	9
20	11	222	113	54	95	126	217	18	89
150	111	282	123	94	125	186	87	138	249
	171		193	214	175	216			269
Diabete									
0	1	2	3	4	5	6	7	8	9
30	41	112	43	94	15	16	67	28	19
80	111	142	63	114	25	146	147	48	49
120	141		93	154	145			118	69
Glaucoma									
0	1	2	3	4	5	6	7	8	9
10	111	182	13	14	35	26	77	58	109
70	121	192	23	64	75	116	157	88	169
	211		73	94	155			98	

Quais são os documentos que tratam, ao mesmo tempo, do assunto paciente com diabete, hipertensão e glaucoma?

- (A) 111 e 94
(B) 120 e 118
(C) 150 e 249
(D) 169 e 70
(E) 186 e 116

39

Quando um arquivista atua desenvolvendo, principalmente, atividades de classificação, além de aprofundar seus conhecimentos terminológicos, percebe que uma palavra ou mesmo um grupo de palavras, em indexação, designam um assunto ou um conceito preciso, excluindo-se quaisquer outros significados. Como se denomina essa palavra ou esse grupo de palavras?

- (A) Diapositivo
(B) Descritor
(C) Diplomática
(D) Vocabulário
(E) Dado

40

O conceito de microfilmagem está vinculado à produção de imagens fotográficas de documentos em formato muito reduzido. Tal produto, se tiver como meta a preservação das informações contidas nos documentos eliminados, visando à racionalização de espaço físico, é microfilme de

- (A) segurança. (B) preservação.
(C) complemento. (D) tramitação.
(E) substituição.

41

Para realizar um trabalho de reorganização de documentos de uma instituição pública, o responsável pelo arquivo retirou documentos de uma série e retirou algumas séries de um fundo para compor séries e fundos em outro arquivo. Esse procedimento teórico, prático e metodologicamente equivocado é identificado arquivisticamente como

- (A) distorção.
- (B) desapensação.
- (C) dispersão.
- (D) desclassificação.
- (E) depuração.

42

Considere as seguintes características, elencadas por Michel Duchein *apud* Bellotto, 2004: Nome; existência jurídica resultante de lei, resolução ou decreto; chefe com poder de decisão, dentro de sua área de competência; atribuições precisas; subordinação conhecida firmada em lei; organização interna fixa. Essas características identificam um(a)

- (A) item.
- (B) fundo.
- (C) grupo.
- (D) série.
- (E) classificação.

43

A descrição arquivística visa a identificar e explicar o contexto e o conteúdo de documentos, com o objetivo de promoção de acesso aos mesmos, apresentando regras gerais bem definidas. No entanto, a Norma Geral Internacional de Descrição Arquivística não define formatos de saída da descrição, que são identificados no Brasil como

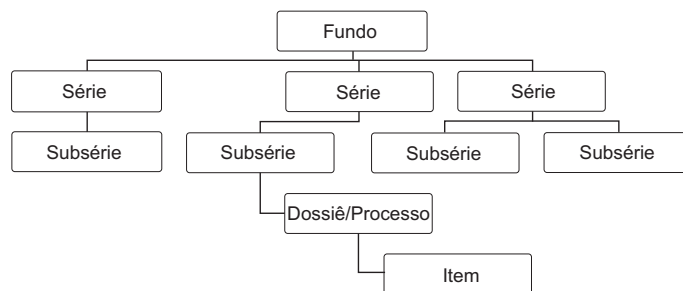
- (A) instrumentos de pesquisa.
- (B) datas de produção.
- (C) disseminação da informação.
- (D) entidades coletivas.
- (E) nível de arranjo.

44

As normas de descrição arquivística são baseadas em princípios teóricos aceitos internacionalmente. Essas normas apresentam regras que estão organizadas em sete áreas de informação arquivística. A área específica e bastante conhecida destinada à informação sobre como, quando e por quem a descrição arquivística foi elaborada é a de

- (A) conteúdo e estrutura.
- (B) identificação da descrição.
- (C) condições de acesso.
- (D) fontes relacionadas.
- (E) controle da descrição.

45



O gráfico acima representa uma descrição

- (A) física.
- (B) lógica.
- (C) multinível.
- (D) referencial.
- (E) equivalente.

46

O código de classificação de documentos de arquivo é um instrumento utilizado para classificar todo e qualquer documento produzido ou recebido por um órgão no exercício de suas funções e atividades. As classes principais correspondem às grandes funções desempenhadas pelos órgãos. Elas são divididas em subclasses e estas, em grupos e subgrupos. O código de classificação de documentos para a administração pública – atividade-meio – possui duas classes comuns a todos os seus órgãos, referentes aos assuntos gerais e aos assuntos diversos, que são

- (A) 000 e 900
- (B) 100 e 800
- (C) 200 e 500
- (D) 300 e 500
- (E) 700 e 800

47

Assunto	Prazo de Guarda		Destinação Final	Observação
	Fase Corrente	Fase Intermediária		

A representação acima corresponde ao instrumento denominado

- (A) plano de classificação.
- (B) instrumento de pesquisa.
- (C) tabela de equivalência.
- (D) tabela de temporalidade.
- (E) lista de descarte.

48

Um arquivista atualizado não deve confundir as inúmeras siglas que existem na área de arquivologia, como: CONARQ, NOBRADE, ISAD, CIA, SINAR etc. Recentemente o Comitê de Boas Práticas e Normas elaborou a Norma Internacional de Descrição de Funções, cuja sigla é

- (A) ISAAR
- (B) ISDF
- (C) NIDF
- (D) NBDF
- (E) DFIN

49

Em 1º de julho de 2007, foi aprovado o Manual de Certificação para Sistemas de Registro Eletrônico em Saúde. O Manual estabelece, em seu Art. 8º, o prazo mínimo de 20 anos, a partir do último registro, para a preservação dos prontuários dos pacientes em suporte-papel, que **NÃO** foram arquivados em

- (A) cartão-janela, filme reversível ou nitrato.
- (B) fita magnética, câmara de segurança ou custódia.
- (C) criptografia, formato arquivo ou incorporado.
- (D) microfilme, meio óptico ou digitalizado.
- (E) diapositivo, ambiente arquivístico ou codificado.

50

A declaração de interesse público e social de arquivos privados, estabelecida no Art. 1º da Resolução 17 de 25 de julho de 2003, do Conselho Nacional de Arquivos, é de competência do(a)

- (A) Presidente da República.
- (B) Presidente do CONARQ.
- (C) Senado Federal.
- (D) Arquivo Nacional.
- (E) Câmara dos Deputados.

51

Nos arquivos permanentes, o acesso aos documentos é fundamental, pois fornece ao pesquisador a informação desejada de forma otimizada, e é a partir de determinados instrumentos que se efetiva o acesso. Assim, o instrumento constante nos arquivos permanentes que descreve os conjuntos documentais ou parte do fundo e apresenta descrições sumárias, considerado um instrumento parcial, é o(a)

- (A) guia.
- (B) inventário.
- (C) repertório.
- (D) índice.
- (E) lista.

52

De acordo com a legislação vigente, é assegurado o direito de acesso pleno aos documentos públicos. No entanto, serão restritos, por um prazo de até cem anos, documentos sigilosos relacionados com

- (A) segurança e risco da sociedade.
- (B) legitimidade e força do estado.
- (C) resistência e capacidade do povo.
- (D) honra e imagem das pessoas.
- (E) intelectualidade e produção científica.

53

Em um arquivo permanente, a equipe encarregada da organização dos documentos verifica que na massa documental não há cópias dos documentos e não há documentos recapitulativos nem sínteses. Verificadas essas características, conclui-se que foi respeitado o princípio da

- (A) formalidade.
- (B) funcionalidade.
- (C) unicidade.
- (D) operacionalidade.
- (E) estabilidade.

54

O arquivista de qualquer organização, seja pública ou privada, deve levar em consideração dois fatores que afetam a preservação da documentação sob sua custódia. Os fatores de deterioração apontados como agentes são

- (A) específicos e gerais.
- (B) antigos e modernos.
- (C) abertos e fechados.
- (D) internos e externos.
- (E) individuais e grupais.

55

Em um arquivo público, o arquivista observa a seguinte descrição: "0,52 m de documentos textuais". De acordo com a ISAD-G, essa descrição refere-se a

- (A) dimensão e suporte.
- (B) âmbito e conteúdo.
- (C) característica e nota.
- (D) arranjo e descrição.
- (E) procedência e referência.



QUESTÕES DISCURSIVAS

1

No âmbito dos arquivos permanentes, é possível destacar a ligação que se efetiva entre o pesquisador e a realização de seu estudo, ou seja, as respostas quanto às suas indagações, que se tornam possíveis a partir da descrição cuidadosa, precisa e rigorosa dos arquivos permanentes, realizada pelo arquivista.

Com base nessa reflexão, explique

- a) o que é **Descrição Arquivística**;
- b) qual é o seu produto;
- c) o que é ISAD-G;
- d) o que são pontos de acesso e qual a sua importância.

(valor: 10,0 pontos)

RASCUNHO

